

Equipamento destinado à avaliação visual.
Procure um especialista caso
seja necessário.

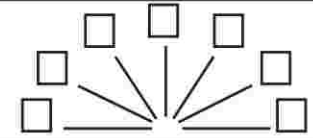
6/30	6/18	6/12	6/7,5	6/6	6/5
2	4	6	8	10	12
20/100	20/50	20/35	20/25	20/20	20/17

Não se esqueça de usar as lentes suplementares para detecção de tendência a Hipermetropia e visão de longe apenas

? Qual é a menor linha que você lê?

2 D Z N K 7 6 3 2
4 T F D U N 9 2 7 4 3
6 Z R K F T 0 4 9 6 7
8 F T U N Z 6 3 2 0 9
10 K N F T R 2 7 4 3 6
12 U D R Z K 4 0 6 9 2

? Alguma das linhas do diagrama abaixo é mais clara ou escura que as outras? Qual delas?



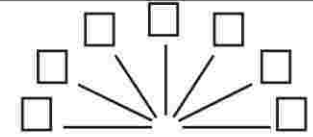
6/30	6/18	6/12	6/7,5	6/6	6/5
2	4	6	8	10	12
20/100	20/50	20/35	20/25	20/20	20/17

Não se esqueça de usar as lentes suplementares para detecção de tendência a Hipermetropia e visão de longe apenas

? Qual é a menor linha que você lê?

2 F T Z U 2 7 6 4
4 Z K D R N 4 9 3 7 2
6 D U N F K 7 2 4 0 6
8 K Z T D R 9 0 7 2 3
10 N D R K U 3 6 4 9 7
12 U T F N Z 0 7 2 6 4

? Alguma das linhas do diagrama abaixo é mais clara ou escura que as outras? Qual delas?



6/30	6/18	6/12	6/7,5	6/6	6/5
2	4	6	8	10	12
20/100	20/50	20/35	20/25	20/20	20/17

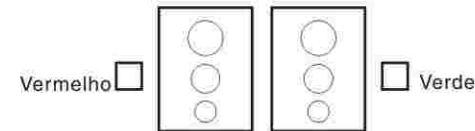
1	2	3	4	5	6	7	8
A	A	A	A	A	A	A	A
B	B	B	B	B	B	B	B
C	C	C	C	C	C	C	C

? Qual é a menor linha que você lê?

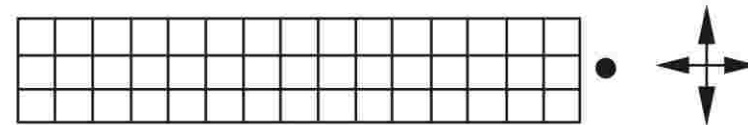
2 K F U D 9 7 3 2
4 D N K F U 2 0 4 6 9
6 Z U R T K 3 6 2 0 7
8 F N D Z R 4 9 7 3 2
10 N R F U T 6 2 0 4 9
12 U T D R N 0 3 6 7 2

? Como você vê as letras na coluna 1?
- no mesmo plano da grade
- atrás do plano da grade
- na frente do plano da grade
Mesma pergunta para as colunas 2 a 8

? Quais círculos você vê melhor?
Os que estão no fundo verde ou vermelho?
Ou os dois na mesma maneira?



? Aqui você vê uma grade e um ponto. Aonde está localizado o ponto na grade?



? Por favor leia os números que estão nos círculos coloridos

